

Leia o texto atentamente.

A importância de contar histórias aos nossos familiares

Se alguém perguntasse a você sobre a história da sua família, você saberia contá-la? Conhecer as nossas raízes é saber um pouco sobre nós mesmos e sobre nossa família. Saber como foi a vida dos nossos avós, dos nossos pais é entender porque eles são quem são. O ato de contar histórias dos familiares é uma experiência muito importante.

Muitos brasileiros estão conhecendo a história de suas famílias hoje em dia porque estão em busca de sua cidadania italiana, polonesa ou portuguesa, por exemplo. Mas alguns ainda buscam conhecer a história dos seus antepassados porque consideram isso de extrema relevância. E, afinal, é realmente importante sabermos de onde viemos.

Por que devemos saber sobre a história de nossa família?

Toda família tem sua história, de onde vieram, como foi a infância e quais motivos a levaram a estar onde se encontra hoje. Porém, muita informação se perdeu com o tempo, por conta da falta do hábito de contar histórias e por não ter sido registrada.

O que muitas pessoas têm hoje são fotos antigas, alguns documentos e uma história ou outra que se desconstruem. Porém, é importante resgatar a história e começar a registrá-la, para que possamos criar esse elo com nossos antepassados e tentar entender como eles viviam, quais eram suas brincadeiras favoritas e quais eram os princípios norteadores da sociedade naquela época.

O ato de contar histórias também faz com que nos reunamos em família para ouvir o que o outro tem a dizer e, assim, nos aproximamos mais. Essa experiência faz com que nossos laços familiares sejam reforçados. [...]

Fonte: <https://inonni.com.br/blog/2019/11/08/historias-da-nossa-familia/>

Questão 1

No trecho “[...] porque estão em busca de **sua** cidadania italiana, polonesa ou portuguesa, [...]” (2º parágrafo), o pronome destacado faz referência a:

- A) famílias
- B) muitos brasileiros
- C) a história
- D) estrangeiros

Questão 2

No trecho “Mas **alguns** ainda buscam conhecer a história dos seus antepassados”. (2º parágrafo), o pronome em destaque transmite uma ideia de:

- A) um grupo definido de pessoas

- B) um grupo indefinido de pessoas
- C) um grupo exato de pessoas
- D) apenas um personagem do texto

Questão 3

Observe as afirmativas a seguir:

- I. Ele foi, mais a filha ficou.
- II. Sou apaixonado por uma garota, mas ela não me dá bola.
- III. Estude mais e passará na prova.
- IV. Carolina é inteligente, mais é pouco simpática.
- V. O ferro é mais barato que o ouro.

Marque qual das alternativas corresponde às afirmativas apresentadas:

- A) Todas as afirmativas estão corretas.
- B) Estão corretas as afirmativas I, III, IV e V.
- C) Estão corretas as afirmativas I, II, III e IV.
- D) Estão corretas as afirmativas II, III e V.

Leia o texto e responda às questões:

Meninos são flagrados em situação de trabalho infantil na BR-010, no PA

Crianças ganhavam R\$ 1 para vender bancos de madeira. Pais foram notificados e o suspeito de exploração levado à delegacia.



PRF resgatou meninos que vendiam bancos de madeira na BR-010, no Pará. (Foto: Divulgação/ PRF-PA)

Três meninos, de 12, 13 e 14 anos, foram flagrados na última quarta-feira (20) em situação de exploração de trabalho infantil em Ipixuna do Pará, sudeste do estado. De acordo com a Polícia Rodoviária Federal (PRF), as crianças vendiam bancos de madeira em uma via paralela à rodovia BR-010 e ganhavam R\$ 1 por cada unidade comercializada.

Diante da situação de risco em que os meninos se encontravam, os agentes da PRF acionaram o Conselho Tutelar, que encaminhou as crianças para suas residências. Os pais foram notificados e orientados sobre o problema da exploração do trabalho infantil e da importância da preservação de momentos de estudo e lazer das crianças.

Exploração

Os policiais faziam ronda na área quando foram informados da situação e, ao chegarem ao local, encontraram os meninos sentados no canteiro, vendendo os bancos de madeira.

Segundo os garotos, um marceneiro repassava para eles os bancos, que deveriam ser vendidos por R\$ 6 a unidade. O marceneiro foi localizado e encaminhado à delegacia de Polícia Civil para as providências legais cabíveis.

Disponível em: <
<http://g1.globo.com/pa/para/noticia/2016/07/meninos-sao-flagrados-em-situacao-de-trabalho-infantil-na-br-010-no-pa.html>> .
Acessado em 08/04/2021

Questão 4

Ao compor o título da notícia o redator quer, principalmente:

- A) Chamar a atenção do leitor e despertar seu interesse.
- B) Informar o leitor sobre o conteúdo da notícia.
- C) Provocar a curiosidade do leitor e levá-lo à leitura.
- D) Informar o fato acontecido.

Questão 5

Lide ou *lead* (em inglês) é o primeiro parágrafo da notícia. Ele é a abertura do texto e apresenta resumidamente as informações que serão desenvolvidas no corpo da notícia.

Acompanhe as informações do lide desta notícia que você acabou de ler.

I. A notícia trata da exploração do trabalho infantil que foi flagrada pela Polícia Rodoviária Federal (PRF).

II. Esta situação aconteceu em Ipixuna do Pará, sudeste do estado.

III. As crianças exploradas tinham entre 6 e 9 anos de idade.

Marque qual das alternativas a seguir corresponde às afirmativas apresentadas:

- A) Todas as afirmativas estão corretas.
- B) Estão corretas as afirmativas I e II.
- C) Estão corretas as afirmativas I e III.
- D) Estão corretas as afirmativas II e III.

Matemática

Questão 06

Em um jogo de desafios matemáticos, os participantes devem escrever em um papel o maior número que pode ser representado respeitando as instruções.

As instruções recebidas foram:

- O número deve ter 5 algarismos;
- O algarismo da dezena de milhar deve ser menor que 6;
- O algarismo das centenas deve ser maior que 3;
- Nenhum algarismo do número deve se repetir.

Cinco participantes responderam a esse desafio de acordo com a tabela a seguir.

Nome	Número sugerido
Júlia	98.765
Débora	59.876
Vanessa	99.999
Marcos	58.654
Rodolfo	459.876

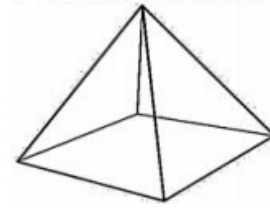
O participante que apresentou o maior número que satisfaz esse desafio foi:

- A) Débora
- B) Marcos

- C) Vanessa
- D) Rodolfo

Questão 07

Quais polígonos compõem as laterais da pirâmide a seguir?



- A) Quadrados
- B) Retângulos
- C) Trapézios
- D) Triângulos

Questão 08

Paula pretende realizar uma viagem com sua família. Ela vai dirigir de Piraí a Salvador com seu carro. Ao pesquisar a distância que irá percorrer até seu destino final verificou que seria igual a 1.622 km. Ela percorreu 657 km e fez uma parada para o almoço. Quantos quilômetros Paula e sua família ainda terão que percorrer para chegar ao seu destino?

- A) 965
- B) 975
- C) 1.035
- D) 1.573

Questão 09

O IBGE divulgou as estimativas das populações residentes em alguns municípios brasileiros, com data de referência em 1º de julho de 2019. Estimou-se que o Brasil, em 2019, teria aproximadamente 210,5 milhões de habitantes. O quadro abaixo apresenta a população das capitais das regiões Sudeste.

População das capitais da Região Sudeste	
Cidade	Número de habitantes
São Paulo	12.252.023
Vitória	362.097
Rio de Janeiro	6.718.903
Belo Horizonte	2.512.070

Fonte: IBGE, Diretoria de Pesquisas - DPE, Coordenação de População e Indicadores Sociais - COPIS.

Com base nessas informações, podemos afirmar que a escrita por extenso, correta, do número de habitantes da capital mais populosa é igual a:

- A) Doze milhões, duzentos e cinquenta e dois mil e vinte três.
- B) Doze mil, duzentos e cinquenta e dois e vinte e três.
- C) Doze milhões, duzentos e cinquenta e dois mil e vinte e três.
- D) Seis milhões, setecentos e dezoito mil novecentos e três.

Questão 10

Paula deseja comprar um celular no valor de R\$ 1.716,00. No momento da compra ela foi informada que poderia parcelar o valor do aparelho em até quinze vezes sem juros no cartão de crédito. Ao analisar sua situação financeira, optou pelo parcelamento em doze vezes. Nessas condições, qual o valor a ser pago em cada parcela?

- A) R\$ 134, 00
- B) R\$ 137, 00
- C) R\$ 140,00
- D) R\$ 143,00

Ciências

Questão 11

No que diz respeito às etapas do tratamento e purificação da água, qual das alternativas abaixo não é verdadeira?

- A) A Coagulação/floculação é a etapa inicial do tratamento da água, quando ocorre a adição de sulfato de alumínio, um produto químico que possibilita a união das partículas sólidas em suspensão na água.
- B) Após a coagulação/floculação ocorre a decantação das partículas sólidas, que se agrupam e pesam, se depositando no fundo do tanque de tratamento.
- C) Na desinfecção não há a necessidade da aplicação de cloro, hipoclorito de sódio ou outro produto adequado para a eliminação de micro-organismos causadores de doenças.
- D) A filtração é uma etapa bastante importante do processo, é na filtração que a água passa por filtros compostos por camadas de carvão, areia e pedras de diversos tamanhos. Aqui, as pequenas impurezas ficam retidas.

Questão 12

Marque a única alternativa correta.

Sobre os vários tipos e metodologias de separação de misturas heterogêneas, qual é o nome dado a técnica utilizada quando fazemos o nosso café para beber no dia a dia?

- A) Levigação
- B) Filtração
- C) Decantação
- D) Catação



Questão 13

A possível escassez de água é uma das maiores preocupações da atualidade, considerada por alguns especialistas como o desafio maior do novo século. No entanto, tão importante quanto aumentar a oferta é investir na preservação da qualidade e no reaproveitamento da água de que dispomos hoje. A

ação humana tem provocado algumas alterações quantitativas e qualitativas da água:

- I. Contaminação de lençóis freáticos.
- II. Diminuição da umidade do solo.
- III. Enchentes e inundações.

Pode-se afirmar que as principais ações humanas associadas às alterações I, II e III são, respectivamente:

- A) uso de fertilizantes e aterros sanitários / lançamento de gases poluentes / canalização de córregos e rios.
- B) lançamento de gases poluentes / lançamento de lixo nas ruas / construção de aterros sanitários.
- C) uso de fertilizantes e aterros sanitários/ desmatamento / impermeabilização do solo urbano.
- D) lançamento de lixo nas ruas / uso de fertilizantes / construção de aterros sanitários.

História

QUESTÃO 14

Ao estudar a história nos deparamos com o que os homens foram e fizeram, e isso nos ajuda a compreender o que podemos ser e fazer.

A história não se resume à simples repetição dos conhecimentos acumulados. Ela deve servir como instrumento de conscientização dos homens para a tarefa de construir um mundo melhor e uma sociedade mais justa.

(<https://escolakids.uol.com.br/historia/a-importancia-de-se-estudar-a-historia.htm>)

Assinale a alternativa correta. **História é a ciência que:**

- A) estuda os acidentes geográficos e históricos do planeta Terra;
- B) estuda os acontecimentos presentes para prever o futuro da humanidade;
- C) se fundamenta, apenas, nos documentos escritos;
- D) estuda os acontecimentos do passado e do presente dos homens, utilizando-se dos vestígios deixados por eles.

QUESTÃO 15



* Hoje, empregam-se indistintamente as expressões 'fonte histórica' ou 'documento histórico'. (BARROSO, 2012, p. 132). Extraído de: Fontes Históricas: revisitando alguns aspectos primordiais para a Pesquisa Histórica. José D'Assunção Barros. Moussem, n. 12, mai-ago2012, pp. 129-159.

A relação do historiador com o passado acontece através do trabalho com as chamadas fontes históricas. Essas fontes podem abarcar uma série de registros do passado. Na medida em que reúne tais fontes, o historiador busca responder às questões que levanta sobre as mesmas.

Sobre as fontes históricas, marque a alternativa incorreta:

- A) São vestígios que permitem ao historiador estudar e conhecer os fatos históricos.
- B) As fontes orais (entrevistas, relatos etc) não são válidas como fontes históricas;
- C) São registros deixados pelo homem ao longo da história da humanidade.
- D) Podemos classificar as fontes históricas em: orais, escritas, visuais e materiais.

QUESTÃO 16

O tempo é uma questão de fundamental importância para a existência do ser humano. O tempo cronológico é o que ocorre a partir das atividades humanas, desde o nascimento até o falecimento do indivíduo, passando pelo crescimento e profissionalização. Já o tempo histórico é aquele que:

- A) ocorre levando em consideração o desenvolvimento biológico do ser humano, desde o seu nascimento até a sua morte.
- B) prioriza os acontecimentos que marcaram um povo, tais como as revoluções, guerras, curas de doenças, revoltas, entre outros.
- C) ocorre levando em consideração o desenvolvimento biológico do ser humano aliado às mudanças da natureza provocadas pelo homem, tais como o aquecimento global.
- D) prioriza os acontecimentos que envolvem somente os elementos da natureza, tais como furacões, ciclones e tsunamis.

Geografia

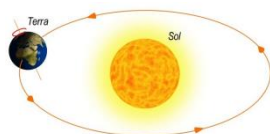
Questão 17

O instrumento utilizado para a orientação espacial com a localização geográfica que mostra a posição dos pontos cardeais, colaterais e subcolaterais é:

- A) A Rosa dos Ventos;
- B) O GPS;
- C) O Astrolábio
- D) Todas as respostas estão corretas.

Questão 18

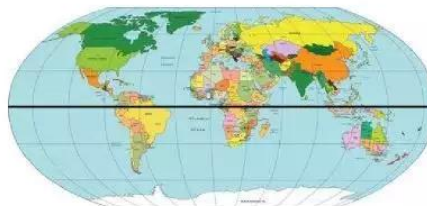
O movimento realizado pelo planeta Terra em torno de si mesmo e que dura aproximadamente 24 horas é chamado de:



- A) rotação;
- B) translação;
- C) mutação;
- D) transformação

Questão 19

A Linha imaginária que divide a Terra em dois hemisférios: o hemisfério norte, ou setentrional, que contém o polo norte, e o hemisfério sul, ou meridional, que contém o Polo Sul, é chamada de:



- A) Meridiano de Greenwich;
- B) Linha do Equador;
- C) Linha do horizonte;
- D) Todas as alternativas estão erradas.

Arte

Questão 20

Observe as afirmativas a seguir:

- I.** O azulejo é uma das marcas mais distintivas daquilo que é a cultura portuguesa.
- II.** Embora se destaque na cultura portuguesa, o azulejo tem derivações árabes. O termo azzellj significa pequena pedra polida, e foi usado para designar o próprio mosaico usado na arte bizantina.
- III.** Azulejo é uma peça de cerâmica de pouca espessura, geralmente quadrada, em que uma das faces é vidrada, resultado da cozedura de um revestimento geralmente denominado como esmalte, que se torna impermeável e brilhante. Esta face pode ser monocromática ou policromática, lisa ou em relevo.

Marque qual das alternativas corresponde às afirmativas apresentadas:

- A) Todas as afirmativas estão corretas.
- B) Nenhuma delas está correta.
- C) Estão corretas as afirmativas I e II.
- D) Estão corretas as afirmativas I e III.

Questão 21

Observe as afirmativas a seguir:

- I.** Quando tocamos ou olhamos para um objeto ou superfície sentimos se a sua pele é lisa, rugosa, macia, áspera ou ondulada. A textura é, por isso, uma sensação visual ou tátil.
- II.** Texturas naturais são aquelas que resultam da intervenção humana através da utilização de materiais e instrumentos devidamente manipulados.
- III.** Texturas artificiais são aquelas que resultam da intervenção natural do meio ambiente ou que

caracterizam o aspecto exterior das formas e coisas existentes na natureza.

Marque qual das alternativas corresponde às afirmativas apresentadas:

- A) Todas as afirmativas estão corretas.
- B) Somente a I está correta.
- C) Estão corretas as afirmativas I e II.
- D) Estão corretas as afirmativas I e III.

Questão 22

Observe as afirmativas a seguir:

I. A arte indígena é uma importante fonte de inspiração para o universo da moda e para o universo estético em geral, principalmente no Brasil.

II. Esta arte pode ser encontrada nas artes plásticas, design de objetos e ambientes.

III. No entanto, não observa-se a presença desta arte na estamparia de tecidos ou na tecelagem têxtil.

Marque qual das alternativas corresponde às afirmativas apresentadas:

- A) Todas as afirmativas estão corretas.
- B) Somente a I está correta.
- C) Estão corretas as afirmativas I e II.
- D) Estão corretas as afirmativas I e III.

Educação Física

Questão 23

Esportes técnico-combinatórios são:

- A) Esportes que reúnem modalidades recreativas.
- B) Esportes em que os atletas cumprem uma rotina de movimentos e são avaliados por uma banca de juízes. Os juízes julgam o grau de dificuldade da execução e a precisão dos movimentos.
- C) Esportes que reúnem modalidades como voleibol e basquetebol.
- D) Esportes que reúnem modalidades que incentivam a cooperação.

Questão 24

É considerado um esporte técnico-combinatório:

- A) Handebol
- B) Futebol
- C) Ginástica artística
- D) Atletismo

Questão 25

Assinale, entre as opções abaixo, a que NÃO representa um aparelho de ginástica artística:

- A) Solo
- B) Cavalo com alça
- C) Trave de equilíbrio
- D) Peteca

Língua Inglesa

Questão 26

Complete the sentences using the correct personal pronoun.



_____ are The Simpsons.

- A) He
- B) She
- C) They
- D) It

Questão 27

Choose the correct answer:

She _____ a Colombian Singer.

- A) am
- B) is
- C) are
- D) aren't

Questão 28

Read the comic strip below and choose the best alternative:

"I'm Garfield" is equivalent to... (" I'm Garfield" é equivalente a...)

- A) I am not Garfield
- B) I am Garfield.
- C) I am a cartoonist
- D) This is my cartoonist.