

Leia a história da onça-da-mão-torta, muito conhecida na região Centro-Oeste:

A lenda da onça-da-mão-torta



Esta lenda é sobre uma onça rajada, muito grande, e que teria uma das patas dianteiras torta. Os caçadores, principalmente, temem encontrar esse monstro. De acordo com pessoas que afirmam já tê-la visto, o animal seria o espírito de um vaqueiro muito velho e mau, que tinha uma das mãos torta. Após a sua morte, surgiu esse felino com a mesma característica, o que seria uma espécie de castigo para ele. Como a onça é enfeitiçada, mesmo que atire, ela não morre.

Disponível em: <<https://www.sohistoria.com.br/>>.

Questão 1

Qual o tema da narrativa?

- A) A lenda da onça que era o espírito de um vaqueiro e, por isso, tinha uma das patas dianteiras tortas.
- B) Uma onça que tinha um vaqueiro como protetor.
- C) A relação entre um vaqueiro que morreu, e sua onça, que chora de saudade na floresta.
- D) Caçadores enfeitiçados que queriam matar uma onça-pintada.

Questão 2

Qual significado da palavra enfeitiçada sublinhada no texto:

- A) apavorada
- B) fascinada
- C) distraída
- D) apertada

Questão 3

Observe o fragmento abaixo e assinale a afirmativa correta em relação ao uso da vírgula:

“Após a sua morte, surgiu esse felino com a mesma característica, (...)”

- A) Separar sílabas e expressões.
- B) Isolar frase que indicam situações variadas como tempo, lugar, modo, companhia, entre outras.
- C) Separar verbo (ação) do complemento (frase que completa o sentido do verbo).
- D) Explicar um substantivo.

Questão 4

Leia a tirinha e responda:



Copyright © 2004 Mauricio de Sousa Produções Ltda. Todos os direitos reservados.

A leitura da sequência dos quadrinhos indica ao leitor que a personagem Magali:

- A) Viu a pizza cair no chão.
- B) Quer saber onde está a pizza.
- C) Viu a Mônica comer a pizza.
- D) Comeu o pedaço de pizza da Mônica



Questão 5

Observe a lista abaixo e depois responda.

LISTA DE COMPRAS

Café da manhã	Almoço e jantar
achocolatado <input checked="" type="checkbox"/> açúcar adoçante <input checked="" type="checkbox"/> café (pó) leite longa vida <input checked="" type="checkbox"/> manteiga e/ou margarina <input checked="" type="checkbox"/> pão geléia	arroz feijão <input checked="" type="checkbox"/> ovos carnes macarrão <input checked="" type="checkbox"/> macarrão instantâneo legumes <input checked="" type="checkbox"/> verduras alho <input checked="" type="checkbox"/> óleo vinagre sal azeite
Outros	Limpeza
<input checked="" type="checkbox"/> frutas catchup mostarda maionese Bebidas refrigerantes <input checked="" type="checkbox"/> sucos de frutas	papel toalha detergente <input checked="" type="checkbox"/> sabão em pó sabão em pedra <input checked="" type="checkbox"/> fósforo esponjas para limpeza <input checked="" type="checkbox"/> sacos de lixo

A finalidade desta lista é indicar:

- A) Os produtos necessários para serem comprados no supermercado.
- B) Os produtos que constam na dispensa de uma casa.
- C) Os gastos excessivos com compras de supermercado.
- D) Os artigos que são mais usados na alimentação de uma família.

Questão 6

Leia a manchete de jornal e responda:



Quais verbos podemos identificar na frase:

- A) Crescem e investigam
- B) Crescem e Menos
- C) Investigam e crimes
- D) Crescem e cada vez

Questão 7

Analise a imagem e a frase abaixo. Assinale a resposta correta:



- A) pandemia no país não mudou a vida das pessoas.
- B) Não devemos nos vacinar.
- C) A desinformação também é um "vírus" que traz muitas mortes.
- D) O Brasil não vacina idosos de 70 anos.

Questão 8

Leia o texto e responda:



Na palavra "EMBALADAS", a regra é:

- A) As letras M e N no final de sílaba não modificam o som da palavra
- B) Antes de P e B devemos usar NH.
- C) Antes de P e B não precisamos de regras.
- D) Antes de P e B devemos usar M.

Questão 9

Observe e leia o slogan do cartaz:



**COM O TRABALHO INFANTIL,
A INFÂNCIA DESAPARECE.**

Govt. municipal, mobilize sua comunidade e diga NÃO à todas as formas de exploração do trabalho infantil



Ministério do Trabalho e Emprego



O elemento visual que reforça o tema do cartaz "Com o trabalho infantil, a infância desaparece" é:

- A) a posição das mãos do menino abaixo da cana.
- B) a quantidade de folhagem ao redor do menino.
- C) a presença de uma criança junto a uma quantidade de madeira (cana).
- D) a quantidade de madeira (cana) na frente do rosto do menino.

Questão 10

Assinale a alternativa correta que completa as frases com as preposições adequadas.

**Rodrigo está _____ vontade de estudar.
Vou de carro _____ o Rio de Janeiro.
Estou _____ dinheiro para viajar.
Sai _____ André para jantar.
_____ dezembro que não vou à escola.**

- A) mais - para - sem - com - Em
- B) pois - com - em - mais - Para
- C) com - para - sem - com - Em
- D) com - para - em - mais - Pois

Questão 11

Uma barraca de praia utiliza uma tabela de preços, baseada na quantidade de produtos comprados. Veja:

Tabela de preços			
Quantidade	Refrigerante (lata)	Espetinho	Pastel
1 unidade	R\$ 4,00	R\$ 3,50	R\$ 6,00
2 unidades	R\$ 8,00	R\$ 7,00	R\$ 12,00
3 unidades	R\$ 12,00	R\$ 10,50	R\$ 18,00
4 unidades	R\$ 16,00	R\$ 14,00	R\$ 24,00
5 unidades	R\$ 20,00	R\$ 17,50	R\$ 30,00
6 unidades	R\$ 24,00	R\$ 21,00	R\$ 36,00
7 unidades	R\$ 28,00	R\$ 24,50	R\$ 42,00
8 unidades	R\$ 32,00	R\$ 28,00	R\$ 48,00
9 unidades	R\$ 36,00	R\$ 31,50	R\$ 54,00
10 unidades	R\$ 40,00	R\$ 35,00	R\$ 60,00



Se uma pessoa comprar 3 unidades de espetinho, 5 pasteis e 3 refrigerantes nessa barraca, vai pagar:

- A) R\$ 45,00
- B) R\$ 52,50
- C) R\$ 32,50
- D) R\$ 22,50

Questão 12


Fábio guardou o valor abaixo para comprar um tênis que custa metade do valor que ele guardou. Qual o valor do tênis?



- A) R\$ 45,00
- B) R\$ 73,00
- C) R\$ 54,00
- D) R\$ 25,00

Questão 13

Carolina foi almoçar em um restaurante. Veja as opções de massas e molhos oferecidos.



Calcule quantas opções de refeições Carolina pode fazer com esse cardápio.

- A) 8 opções de cardápio
- B) 3 opções de cardápio
- C) 6 opções de cardápio
- D) 5 opções de cardápio

Questão 14




Tiago comprou um lápis e o mediu com a régua. Qual é a medida do comprimento desse lápis em centímetros?



- A) 1,45 cm
- B) 14 cm
- C) 14,5 cm
- D) 15 cm

Questão 15

Bianca e Gustavo vão se casar. Por isso compraram alguns eletrodomésticos. O valor total será pago, sem acréscimo, em 3 prestações iguais. Qual o valor de cada prestação?

Produtos		Valor
	Micro-ondas	210,00 reais
	Fogão	405,00 reais
	Batedeira	81,00 reais
Total		696,00 reais

- A) 345,00 reais
- B) 212,00 reais
- C) 323,00 reais
- D) 232,00 reais

Questão 16

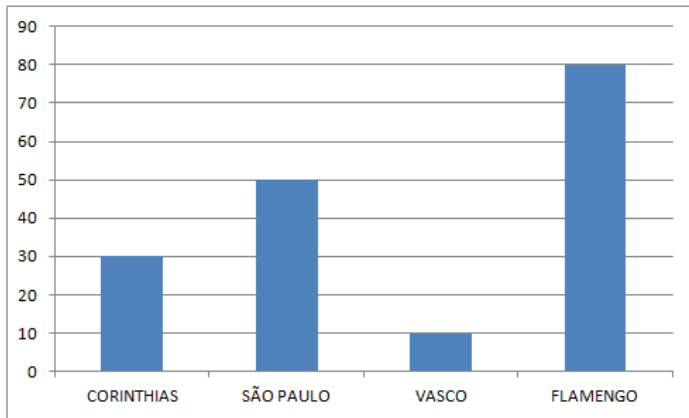
Clara ganhou uma barra de chocolate e a dividiu em oito pedaços iguais. Ela comeu um pedaço e seu irmão Juliano, outro. Que fração da barra de chocolate Clara e Juliano comeram cada um?



- A) Clara e Juliano comeram $\frac{8}{8}$ cada um
- B) Clara e Juliano comeram $\frac{1}{8}$ cada um
- C) Clara e Juliano comeram $\frac{2}{8}$ cada um
- D) Clara e Juliano comeram $\frac{5}{8}$ cada um

Questão 17

O gráfico abaixo mostra a preferência dos estudantes sobre alguns times de futebol do Brasil.



Qual o time de futebol que tem a maior preferência dos estudantes?

- A) Corinthians
- B) Flamengo
- C) São Paulo
- D) Vasco

Questão 18

Veja o número abaixo.

4 510

Uma das decomposições desse número é?

- A) $4\ 000 + 500 + 100$
- B) $4\ 000 + 500 + 10$
- C) $4\ 000 + 50 + 10$
- D) $4\ 000 + 50 + 1$

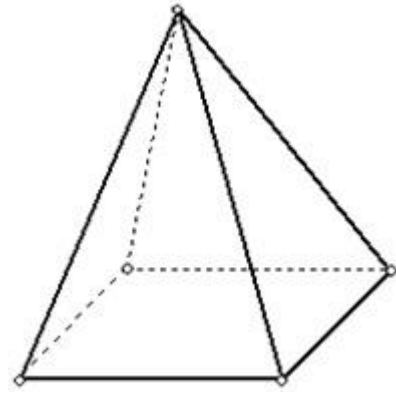
Questão 19

Paulo trabalhou 49 dias em uma livraria. Quantas semanas ele trabalhou?

- A) 7
- B) 9
- C) 24
- D) 49

Questão 20

Observe a imagem abaixo:



A figura acima é formada por uma base quadrada e

- A) 3 faces em forma de quadrado.
- B) 3 faces em forma de triângulo.
- C) 4 faces em forma de retângulo.
- D) 4 faces em forma de triângulo.

Boa Prova!